

Валентинов счёт

Подсчитайте количество предметов в каждом прямоугольнике и обведите правильный ответ.



2 4 3 5 1



1 5 8 2 4




2 1 6 3 4




6 2 7 1 3




3 1 5 4 2




8 7 5 2 4



4 3 2 1 8



2 9 3 4 8



4 9 1 7 3