

teach @ home

РАБОЧАЯ ТЕТРАДЬ ПО МАТЕМАТИКЕ

Для детей 4-6 лет

Счет и представление целых чисел

День	Тема	Pages
День 1	<u>Сложение</u>	2-3
День 2	<u>Счет и чтение математических выражений</u>	4-5
День 3	<u>Порядковый счет</u>	6-7
День 4	<u>Целые числа от 0-10</u>	8-9
День 5	<u>Целые числа от 10-20</u>	10-11

Используйте эту рабочую тетрадь, чтобы практиковать с детьми навыки владения математикой.

Реши примеры на сложение. Используйте двухцветные фишки, фигурки или помпоны для наглядности.

1.

●	●			
---	---	--	--	--

1 + 1 = _____

2.

●	●	●		
---	---	---	--	--

2 + 1 = _____

3.

●	●	●	●	●
---	---	---	---	---

3 + 2 = _____

4.

●	●	●	●	
---	---	---	---	--

4 + 0 = _____

5.

●	●	●	●	●
---	---	---	---	---

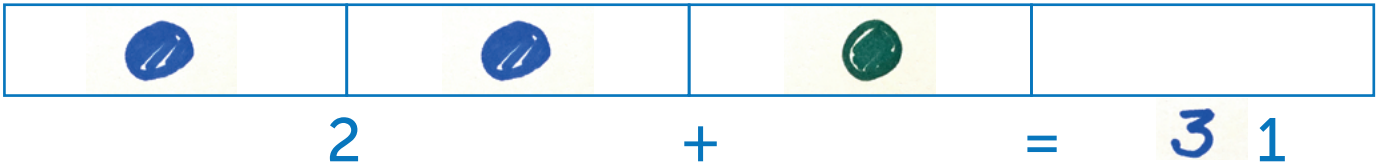
4 + 1 = _____

6.

●	●	●	●	
---	---	---	---	--

1 + 3 = _____

Закрасьте необходимое количество вагончиков, в соответствии с заданным примером, а затем напишите ответ. Используйте двухцветные фишки, фигурки или помпоны для наглядности.



1.

--	--	--	--	--

1 + 2 =

2.

--	--	--	--	--

3 + 1 = _____

3.

--	--	--	--	--

2 + 3 = _____

4.

--	--	--	--	--

1 + 4 = _____

5.

--	--	--	--	--

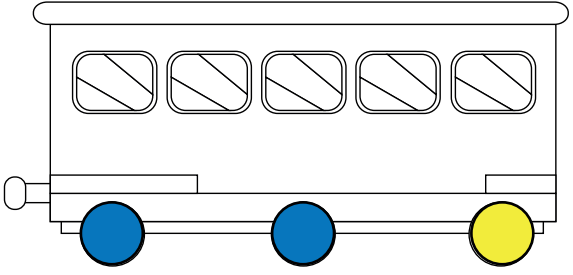
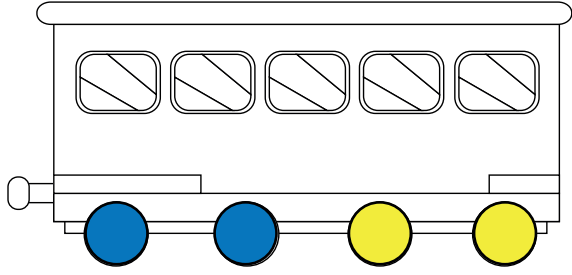
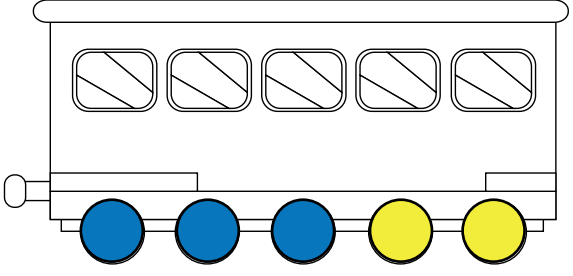
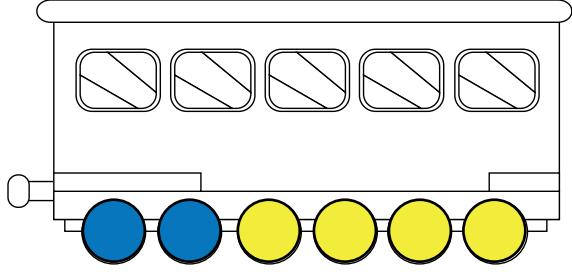
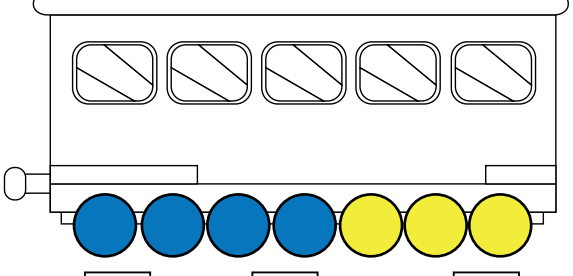
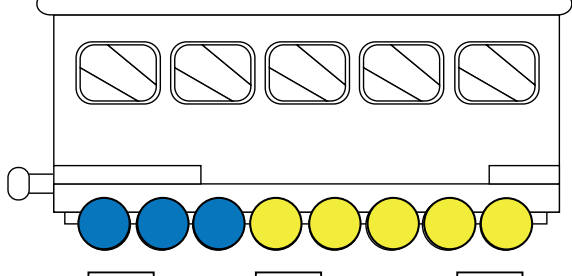
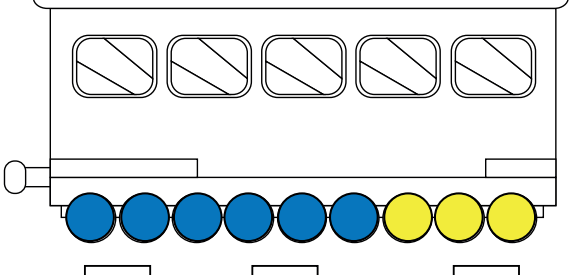
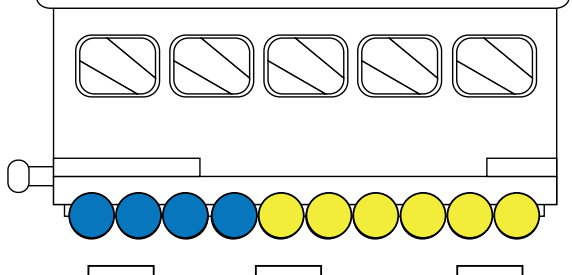
0 + 3 = _____

6.

--	--	--	--	--

2 + 2 = _____

Прочитайте математическое выражение и запишите ответ.
Используйте двухцветные фишки, фигурки или помпоны для наглядности.

<p>1.</p>  <p>сумма чисел <input type="text" value="2"/> и <input type="text" value="1"/> равна <input type="text"/></p>	<p>2.</p>  <p>сумма чисел <input type="text" value="2"/> и <input type="text" value="2"/> равна <input type="text"/></p>
<p>3.</p>  <p>сумма чисел <input type="text" value="3"/> и <input type="text" value="2"/> равна <input type="text"/></p>	<p>4.</p>  <p>сумма чисел <input type="text" value="2"/> и <input type="text" value="4"/> равна <input type="text"/></p>
<p>5.</p>  <p>сумма чисел <input type="text" value="4"/> и <input type="text" value="3"/> равна <input type="text"/></p>	<p>6.</p>  <p>сумма чисел <input type="text" value="3"/> и <input type="text" value="5"/> равна <input type="text"/></p>
<p>7.</p>  <p>сумма чисел <input type="text" value="6"/> и <input type="text" value="3"/> равна <input type="text"/></p>	<p>8.</p>  <p>сумма чисел <input type="text" value="4"/> и <input type="text" value="6"/> равна <input type="text"/></p>

✧ Посчитайте и запишите ответ. Используйте двухцветные фишки, фигурки или помпоны для наглядности.

1. $3 + \bullet = \underline{\hspace{2cm}}$

2. $2 + \bullet \bullet = \underline{\hspace{2cm}}$

3. $4 + \bullet \bullet = \underline{\hspace{2cm}}$

4. $4 + \bullet \bullet \bullet = \underline{\hspace{2cm}}$

5. $3 + \bullet \bullet \bullet \bullet \bullet = \underline{\hspace{2cm}}$

6. $3 + \bullet \bullet \bullet \bullet \bullet \bullet = \underline{\hspace{2cm}}$

7. $5 + \bullet \bullet \bullet = \underline{\hspace{2cm}}$

8. $5 + \bullet \bullet = \underline{\hspace{2cm}}$

9. $6 + \bullet \bullet \bullet = \underline{\hspace{2cm}}$


10. $7 + \bullet \bullet \bullet = \underline{\hspace{2cm}}$

Заполните пропуски недостающими цифрами.


1.	8		10	
2.	12	13		
3.	6			9
4.	2			
5.		16		
6.		4	5	
7.			12	
8.			16	17
9.				20
10.			9	

День 3


Запишите математическое выражение и посчитайте ответ.




$$\underline{5} + \underline{2} = \underline{7}$$



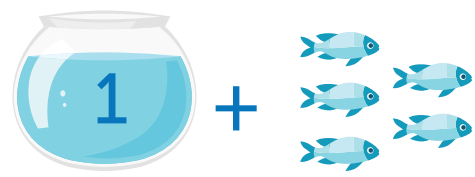
$$\underline{\quad} + \underline{\quad} = \underline{\quad}$$




$$\underline{\quad} + \underline{\quad} = \underline{\quad}$$



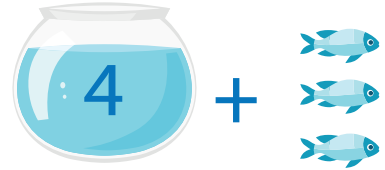
$$\underline{\quad} + \underline{\quad} = \underline{\quad}$$




$$\underline{\quad} + \underline{\quad} = \underline{\quad}$$



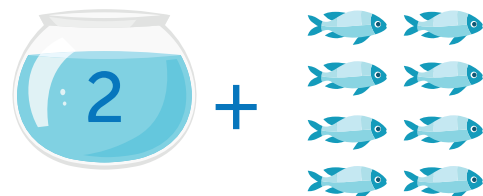
$$\underline{\quad} + \underline{\quad} = \underline{\quad}$$



$$\underline{\quad} + \underline{\quad} = \underline{\quad}$$



$$\underline{\quad} + \underline{\quad} = \underline{\quad}$$

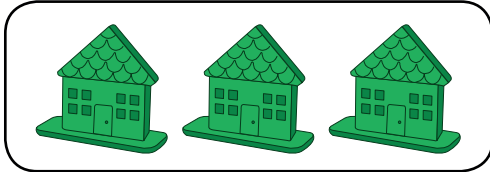


$$\underline{\quad} + \underline{\quad} = \underline{\quad}$$

День 4

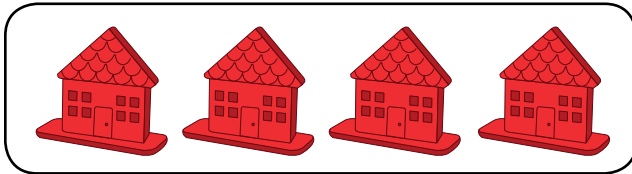
Соедините цифру
с количеством предметов.

1.



НОЛЬ

2.



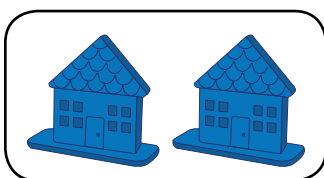
ОДИН

3.




два

4.




три

5.



четыре

6.





ПЯТЬ

Заполните пробелы в приведенных ниже таблицах.

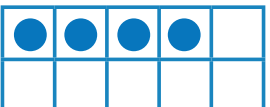
цифра 3	название three
КОЛИЧЕСТВО 	количество, в десятичной системе счисления 

цифра	название five
КОЛИЧЕСТВО	количество, в десятичной системе счисления 

цифра 2	название
КОЛИЧЕСТВО	количество, в десятичной системе счисления 


цифра	название
КОЛИЧЕСТВО 	количество, в десятичной системе счисления 

цифра 0	название
КОЛИЧЕСТВО	количество, в десятичной системе счисления 


цифра	название
КОЛИЧЕСТВО	количество, в десятичной системе счисления 

Напишите сколько  на каждом дереве.


1.




2.




3.




4.




5.



6.




Посмотрите на картинку. Посчитайте яблоки.
Обведите правильный ответ кружком.



7

5


2



10

12


15



3

7


5



15

10


5



9

8


11



15

12

18



11

10

12