



Длина



Измерь **длину**
каждого предмета ниже



Длина



Найди предметы ниже. **Предположи** сколько кубиков можно расположить вдоль каждого предмета

Затем **измерь длину**, используя:



Предположение:







Длина



Найди что-то **короче!**



Нарисуй!



Найди что-то **длиннее!**



Нарисуй!



Длина



Найди эти предметы. Расположи их от самого **короткого** к самому **длинному**.



Высота



Измерь **высоту** каждого предмета, используя:



Высота



Найди предметы ниже. **Предположи высоту** каждого предмета в кубиках:



Затем **измерь высоту**, используя:



Предположение:







Высота



Найди что-то
ниже!



Нарисуй!



Найди что-то
выше!



Нарисуй!



Высота



Найди эти предметы. Расположи их от самого **НИЗКОГО** к самому **ВЫСОКОМУ**.




Вес



Измерь **вес** каждого предмета ниже, используя:



и



Вес



Предположи вес в



каждого предмета ниже.

Затем **измерь вес** с помощью



и



Предположение:







Вес



Найди что-то **легче!**



Нарисуй!



Найди что-то **тяжелее!**




Нарисуй!



Вес



Что **тяжелее?** Используй:



или



Вес



Что **тяжелее?** Используй:



3



или

1



Вес



Что легче? Используй:



6



или

2



Вес



Что **тяжелее?** Используй:



ИЛИ



Вес



Что легче? Используй:



3



1



или

2



3



Вместимость



Предположи **СКОЛЬКО**



ПОМЕСТИТСЯ В



Затем **измерь**, используя



вода

или



рис

Вместимость



Предположи **СКОЛЬКО**



ПОМЕСТИТСЯ В



Затем **измерь**, используя



вода

или



рис

Вместимость



Предположи сколько



поместится в



Затем **измерь**, используя



вода

или



рис

Вместимость



Предположи сколько



поместится в

Затем **измерь**, используя



вода

или



рис