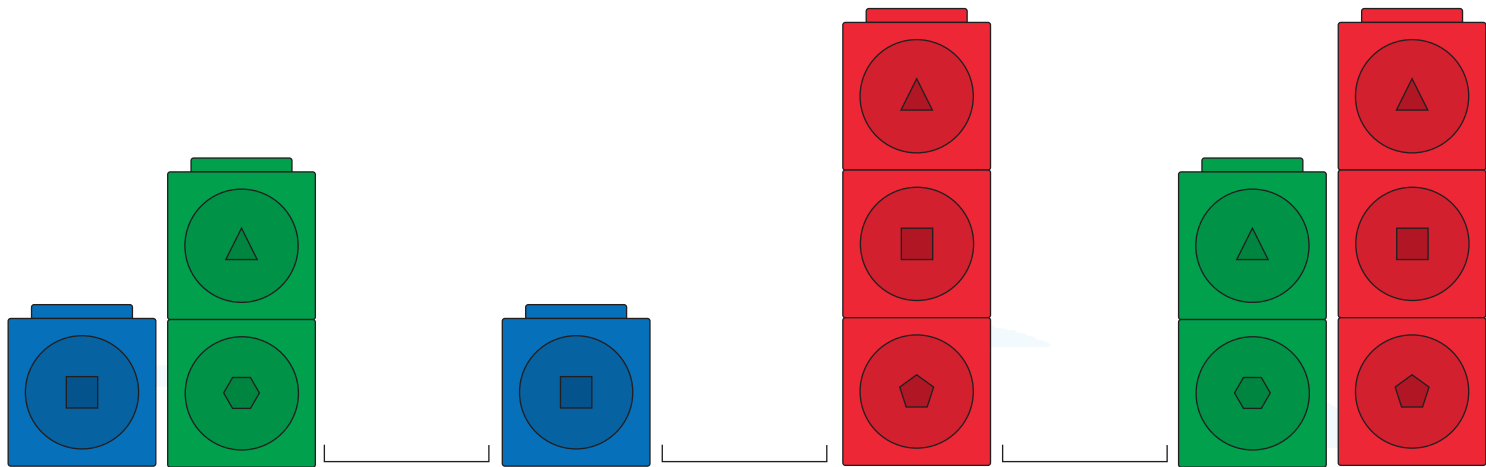


Узоры

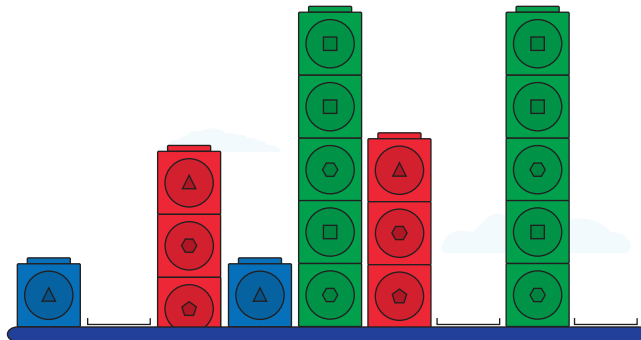
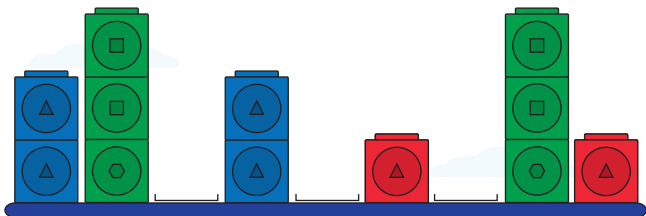
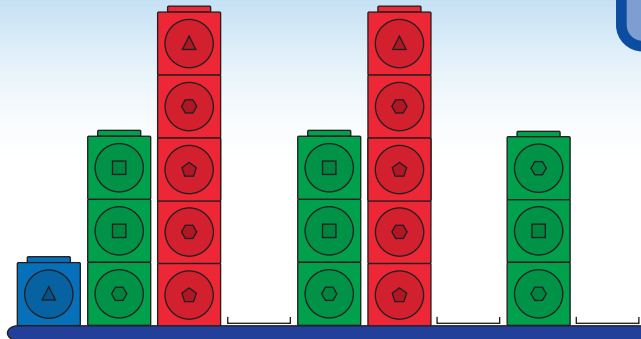
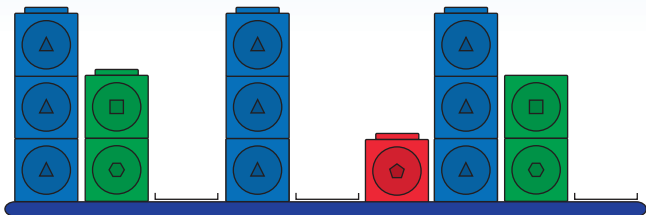
Пожарная машина едет по городу. Посмотрите на здания и завершите узоры, используя кубики.



Узоры

Давайте попрактикуемся в работе по шаблонам, используя кубики.

1b



Состав числа 5

Есть разные способы получить число 5. Посмотрите на пример, который показывает, что 4 красных кубика + 1 синий кубик равны 5. Соедините группы кубиков, чтобы получить число 5 в каждом примере.



$$\underline{\quad} + \underline{\quad} = 5$$

$$\underline{\quad} + \underline{\quad} = 5$$

$$\underline{\quad} + \underline{\quad} = 5$$

$$\underline{\quad} + \underline{\quad} = 5$$

$$\underline{\quad} + \underline{\quad} = 5$$

$$\underline{\quad} + \underline{\quad} = 5$$

Состав числа 10

2b

Есть разные способы получить число 10. Посмотрите на пример, который показывает, что 7 красных кубиков + 3 желтых кубика составляют 10. Соедините группы кубиков, чтобы найти разные способы составить 10.

