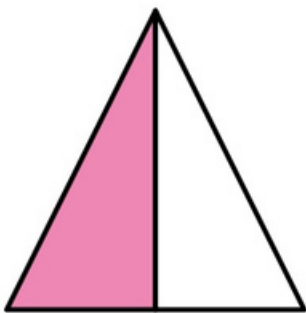


Какая часть закрашена?

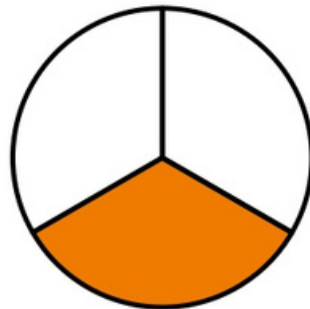
Добавьте числитель, чтобы показать, какая часть фигуры закрашена. Первая фигура дается в качестве примера.

3 Числитель: обозначает количество частей по сравнению с целым

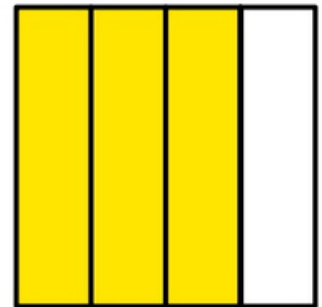
4 Знаменатель: обозначает количество частей в целом



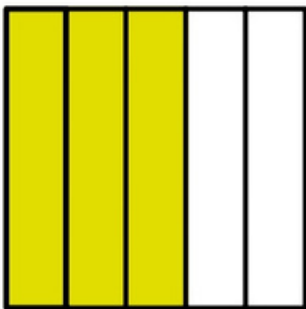
$$\frac{1}{2}$$




$$\frac{1}{3}$$



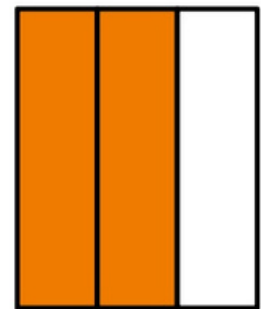
$$\frac{3}{4}$$




$$\frac{3}{5}$$



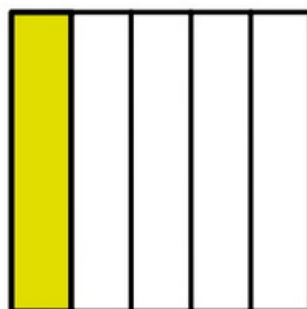
$$\frac{5}{6}$$



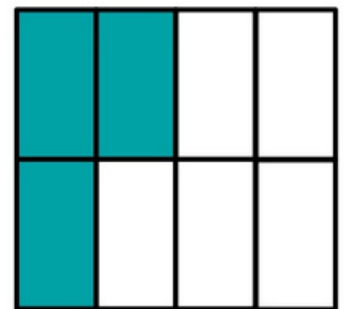
$$\frac{2}{3}$$



$$\frac{3}{4}$$



$$\frac{1}{5}$$



$$\frac{3}{8}$$